




しきとこたえを かいてみよう

りんごが 2こ あります。
1こ たべると、のこりは なんこ ですか。


< しき >



-



=




< こたえ >


1

めだかを 4ひきつかまえました。
2ひき にがすと、のこりは なんびき ですか。


< しき >



-



=



< こたえ >

ひき