

 いくつといくつ?

がつ

にち

なまえ



□のなかにあてはまるすうじをいれてね






かずをわけてみよう

 と ☆ 4 と

 と  3 と

 と  2 と

 と  1 と



☆ と  0 と







かずをわけてみよう


 と ☆ 5 と

 と  4 と

 と  3 と

 と  2 と

 と  1 と

☆ と  0 と