




# いくつといくつ?

がつ

にち

なまえ

□のなかにあてはまるすうじをいれてね



かずをわけてみよう



と



8

と



と



7

と



と



6

と



と



5

と



と



4

と




と



3

と



と



2

と




と



1

と



と



0

と

