




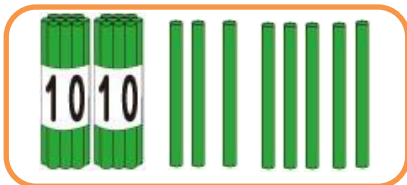
いくつあるかな？かぞえて□にすうじをかいてね。



10ぽん のたばが 1つと、

1ぽん が 9つ で

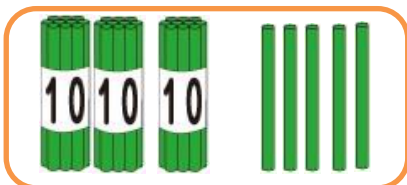
ぽん です。



10ぽん のたばが 2つと、

1ぽん が 8つ で

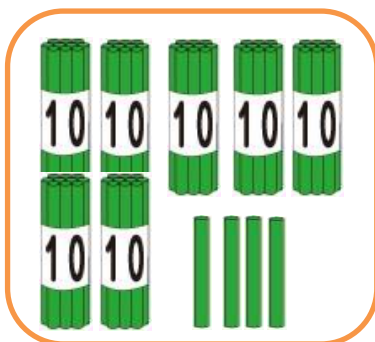
ぽん です。



10ぽん のたばが 3つと、

1ぽん が 5つ で

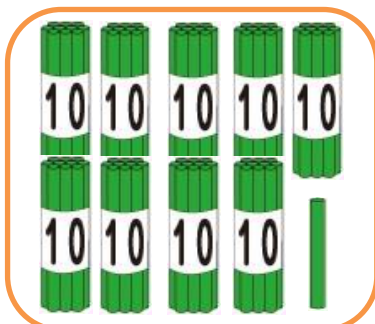
ぽん です。



10ぽん のたばが 7つと、

1ぽん が 4つ で

ぽん です。



10ぽん のたばが 9つと、

1ぽん が 1つ で

ぽん です。